

**PRUEBA PARA LA OBTENCIÓN DEL TÍTULO DE
GRADUADO EN EDUCACIÓN SECUNDARIA OBLIGATORIA**

1er APELLIDO	_____				
2º APELLIDO	_____				
NOMBRE	_____	HOMBRE	<input type="checkbox"/>	MUJER	<input type="checkbox"/>
EDAD	_____	FECHA DE NACIMIENTO	_____		
LOCALIDAD	_____	PROVINCIA	_____		
LUGAR DE EXAMEN	_____				
FECHA	_____				

SEGUNDA PARTE

OCTUBRE 2014

Observación: Esta parte de la prueba se presenta en castellano y en valenciano. Debes elegir solamente una de las opciones.

CIENCIAS SOCIALES:

- **Módulo: El mundo del trabajo**
- **Módulo: Sociedades, territorio y procesos histórico-culturales**

EL MUNDO DEL TRABAJO

A) PRUEBA OBJETIVA. Rodea con un círculo la respuesta correcta. (Punt.: 1 punto).

1.- Población activa es:

- a) La que tiene un empleo.
- b) Las personas que trabajan y tienen contrato laboral.
- c) Las personas que trabajan y las que están en disposición de hacerlo.
- d) Las personas que trabajan y las amas de casa.

2.- Se incluyen en el ámbito regulado por el Estatuto de los Trabajadores:

- a) Las personas que tienen contrato mercantil.
- b) Los trabajos por cuenta propia.
- c) Los trabajos familiares sin condición de asalariados.
- d) Las personas que tienen un contrato laboral.

3.- Cuando un aspecto de las relaciones laborales está regulado por distintas fuentes, se aplicará:

- a) La voluntad del empresario.
- b) Lo que regule el contrato.
- c) La fuente más favorable al trabajador.
- d) Lo que señale la fuente de más importancia jurídica aunque no beneficie al trabajador.

4.- El *currículum vitae* es:

- a) Un resumen ordenado de la historia personal.
- b) Un resumen escrito y ordenado de la trayectoria académica y laboral del candidato.
- c) Un resumen de la historia profesional que debe ser válido para enfrentarse al mundo laboral.
- d) Una relación de títulos, honores y cargos.

5.- El finiquito es:

- a) La cantidad que se recibe en compensación por la decisión de los empresarios.
- b) El abono de las cantidades a las que se tiene derecho por servicios prestados.
- c) El reconocimiento de la extinción de la relación laboral.
- d) La unión de la liquidación y de la indemnización.

B) CUESTIONES:

1.- ¿Cuáles son las características de un trabajo para que se le pueda aplicar el Estatuto de los Trabajadores? ¿Por qué quedan excluidos algunos trabajos?
(Puntuación: 1,5 puntos)

2.- Clasifica las siguientes profesiones en el sector de producción correspondiente: carpintero, administrativa, apicultora, minera, cirujano, torero, ganadera, pescador, agente comercial, metalúrgico, camarero, policía.
(Puntuación: 1,5 puntos)

Sector primario: _____

Sector secundario: _____

Sector terciario: _____

3.- ¿Qué quiere decir que nuestro sistema fiscal es progresivo? Explica la diferencia entre los impuestos directos y los indirectos. Cita algún ejemplo de cada uno de ellos. (Puntuación: 1,5 puntos)

4.- El texto refundido de la ley del Estatuto de los Trabajadores marca, en el artículo 38, que las vacaciones anuales serán de 30 días. El convenio colectivo de *Artes Gráficas, Caucho y Cartón* marca unas vacaciones anuales de 35 días. Una trabajadora firma un contrato de encargada de producción en el que aparece un período vacacional anual de 30 días en verano, 5 en Navidad y 5 en Pascua. (Puntuación: 1,5 puntos)

- a) ¿Es válido este contrato? Razona tu respuesta.
- b) ¿De cuántos días de vacaciones disfrutará esta trabajadora? Justifica el principio normativo que has aplicado.

5.- ¿Qué es el SERVEF? Enumera sus principales funciones. (Punt.: 1,5 puntos)

6.- Paula tiene 24 años y está cursando en una escuela de adultos el primer nivel del Ciclo II de la Formación Básica de Personas Adultas, pero ha pensado que le gustaría trabajar en hostelería y desea prepararse para obtener algún título que la cualifique en este sector. (Puntuación: 1,5 puntos).

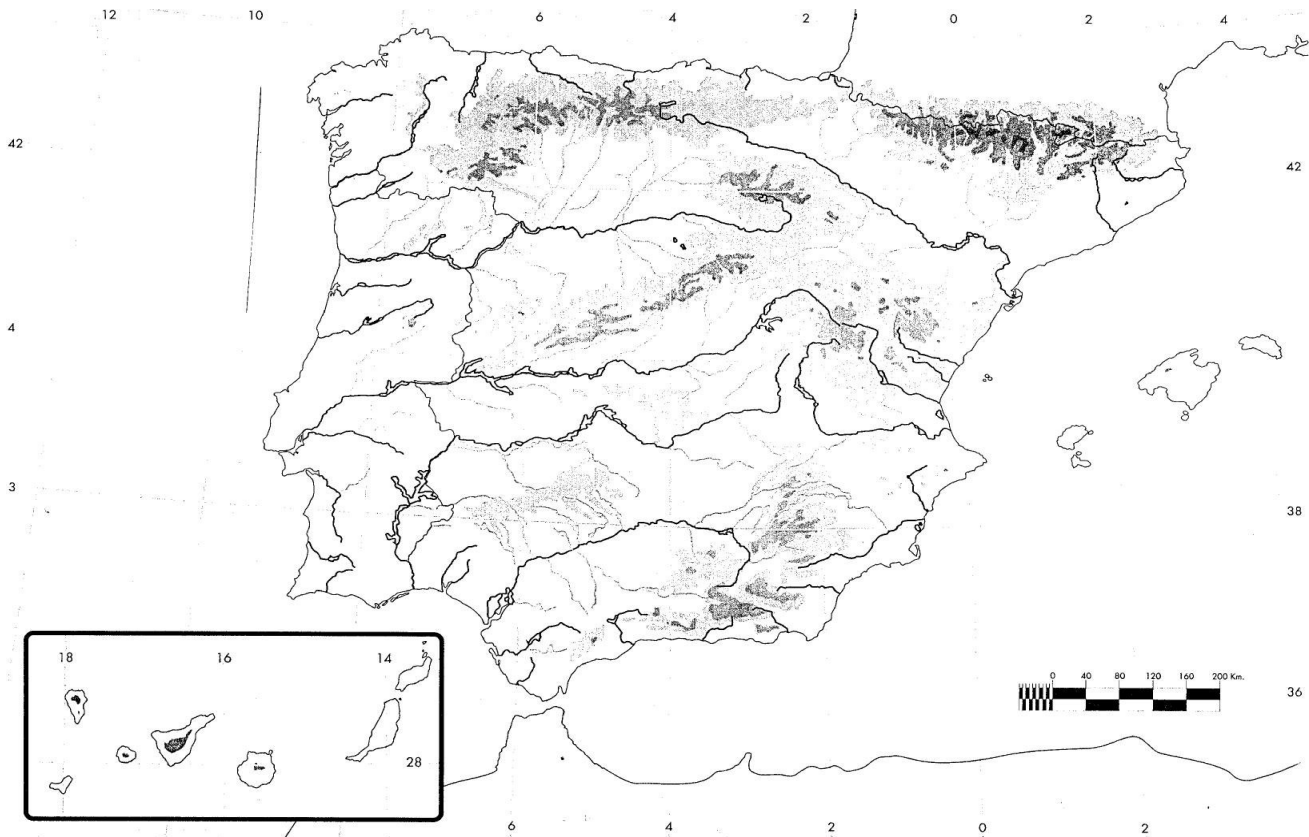
¿Qué itinerario formativo debería seguir Paula para conseguir una titulación que recoja sus intereses laborales? ¿Cómo podría obtener esta información?

PUNTUACIÓN: EL MUNDO DEL TRABAJO

SOCIEDADES, TERRITORIO Y PROCESOS HISTÓRICO-CULTURALES

1.- Sitúa en el mapa los siguientes toponímicos: *(Puntuación: 1,5 puntos)*

Sistema Central, Cordillera Cantábrica, Depresión del Ebro, Submeseta Norte, Pirineos, río Duero, río Guadiana, Islas Baleares, Estrecho de Gibraltar, Mar Cantábrico.



2.- Define los siguientes términos: *(Puntuación: 2 puntos)*

a) Globalización:

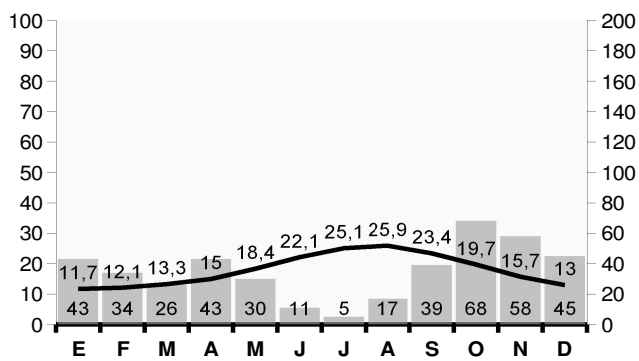
b) Sector secundario:

c) Sector terciario:

d) Tercer Mundo:

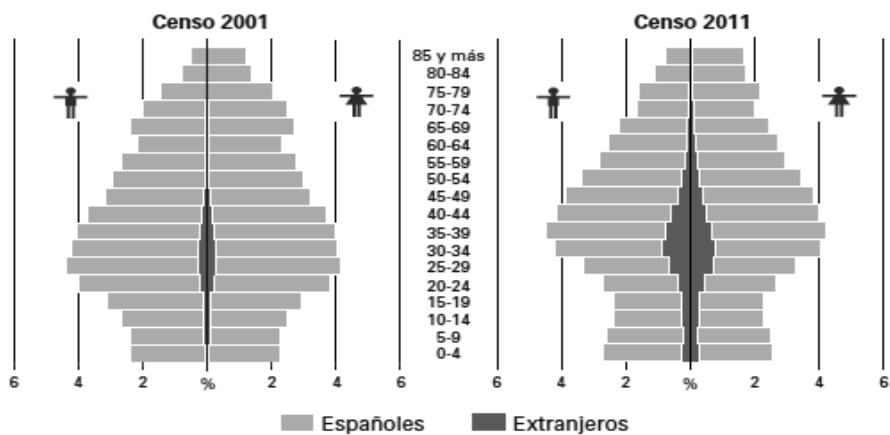
e) *Mass Media*:

3.- A partir de los datos de temperatura y de precipitaciones de este climograma, deduce si esta gráfica pertenece a Bilbao, Palma de Mallorca o a Tenerife. Indica, asimismo, el tipo de clima. (Puntuación: 1,5 puntos)



4.- Observa las gráficas y el mapa y responde a las siguientes cuestiones. (Puntuación: 3 puntos)

Pirámide de población de España 2001-2011



a) Explica las características demográficas de la población inmigrante en España, según las pirámides de población anteriores.

b) Describe las causas internas y externas que han provocado esta evolución.

c) Con ayuda del mapa del Censo 2011, indica dónde se produce una mayor y una menor concentración de inmigrantes en España. Aporta razones que justifiquen esa distribución.

5.- Explica qué ha significado para España su incorporación a la actual Unión Europea desde el punto de vista político, económico (agricultura, pesca, industria, comercio, transportes, turismo, asuntos laborales), social y educativo-cultural. (Punt.: 2 puntos)

**PUNTUACIÓN: SOCIEDADES, TERRITORIO Y PROCESOS
HISTÓRICO-CULTURALES**